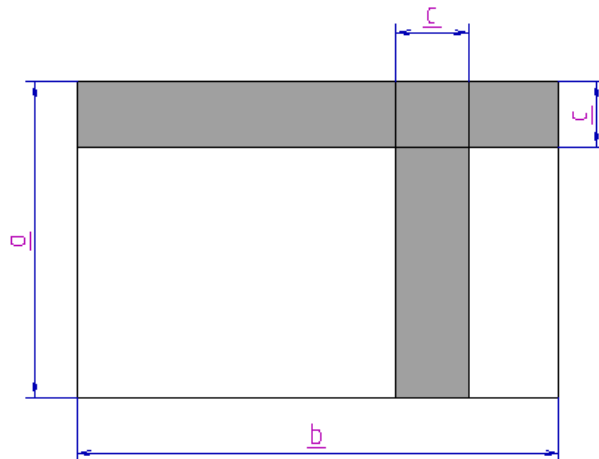


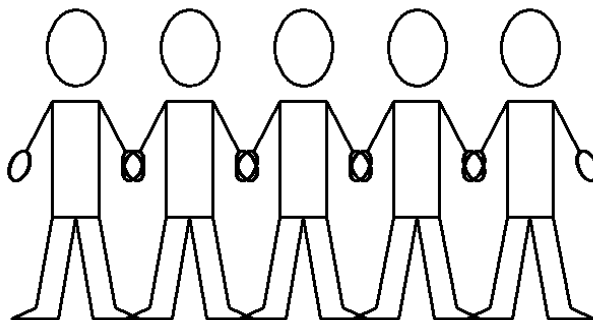
46. a) Gib zwei Terme für die graue Fläche an:



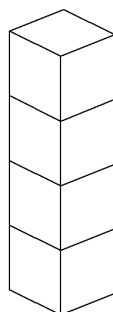
b) Prüfe mit Zahlen, ob beide Terme stimmen!

c) Zeige, dass die Terme äquivalent sind!

47. N Menschen stehen nebeneinander und halten sich an den Händen. Gib einen Term für die Anzahl der Hände an, die eine andere Hand halten (prüfe auch hier den Term an zwei Beispielen mit Zahlen!):



48. K Würfel werden übereinander auf den Tisch gestapelt:



- Wie viele Seitenflächen sind unsichtbar, wie viele Seitenflächen sind sichtbar?
- Welche Ergebnisse erhält man, wenn man die Würfelreihe auf den Tisch legt?